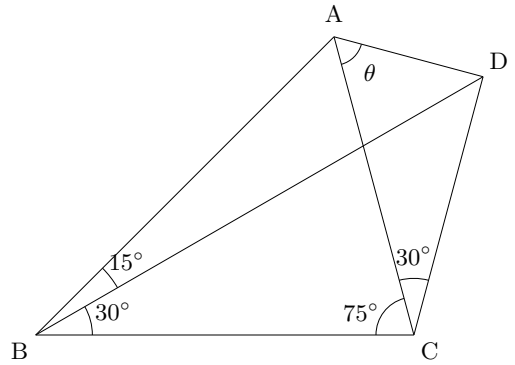


【整角四角形 $Q(15, 30, 75, 30)$ 】

図の θ の角度を求めよ。



【求め方 1】(折り返しでひらめく補助線の幾何より)

図のように、 $\triangle BCD$ を辺 BC で折り返すと、

$\triangle BDE$ は正三角形になる。

$$\angle BCE = \angle BCD = 75^\circ + 30^\circ = 105^\circ$$

$\angle BCA + \angle BCE = 75^\circ + 105^\circ = 180^\circ$ より点 C は線分 AE 上にある。

$$\text{よって、} \angle AED = \frac{1}{2} \angle ACD = 15^\circ$$

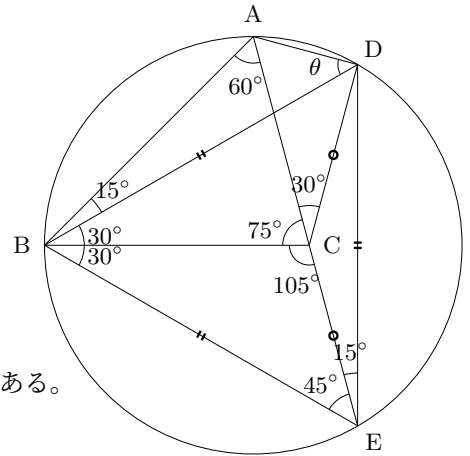
$$\angle BAE = \angle BDE = 60^\circ$$

(または $\angle ABD = \angle AED = 15^\circ$) が成り立つ。

よって、円周角の定理の逆より四角形 $ABED$ は同一円周上にある。

$$\theta = \angle ADB = \angle AEB = 60^\circ - 15^\circ = 45^\circ$$

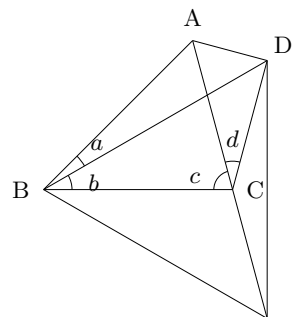
$$\text{(または } \theta = \angle ADB = 180^\circ - (60^\circ + 15^\circ + 60^\circ) = 45^\circ)$$



【予備知識】 一般に、 $2c + d = 180^\circ$ の関係が成り立つとき、

線分 BC に関して点 D と対称な点を E とすると、

点 C は線分 AE 上にある。



【求め方 2】

図のように、 $\triangle BDC$ について BC の垂直二等分線で折

り返すと、 $PB = PC$ で

$$\angle BAC = \frac{1}{2} \angle BPC (= 60^\circ)$$

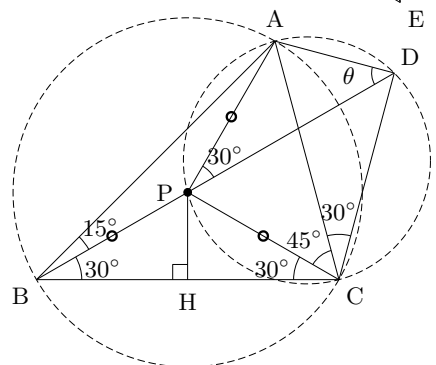
が成り立つから、点 P は $\triangle ABC$ の外心である。

よって、 $PA = PB = PC$ である。

$$\angle APD = 2\angle ABP = 30^\circ = \angle ACD$$

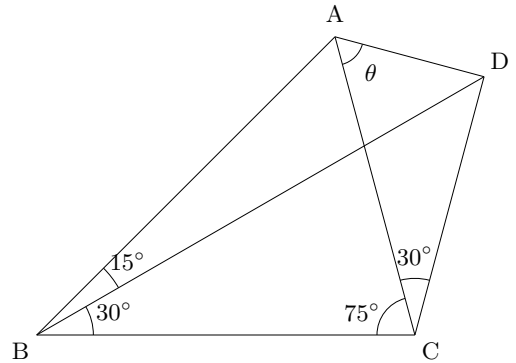
よって、円周角の定理の逆より四角形 $APCD$ は同一円周上にある。

$$\theta = \angle ADP = \angle ACP = 75^\circ - 30^\circ = 45^\circ$$



【整角四角形 $Q(15, 30, 75, 30)$ 】

図の θ の角度を求めよ。



【求め方 3】

図のように、 $\triangle BAC$ について BC の垂直二等分線で折り返すと、 $EB = EC$ で

$$\angle BDC = \frac{1}{2} \angle BEC (= 45^\circ)$$

が成り立つから、点 E は $\triangle BCD$ の外心である。

よって、 $EB = EC = ED$ である。

ゆえに、 $\angle EDB = \angle EBD = 15^\circ$

$$\angle ECD = \angle ECA + \angle ACD$$

$$= (75^\circ - 45^\circ) + 30^\circ = 30^\circ + 30^\circ = 60^\circ$$

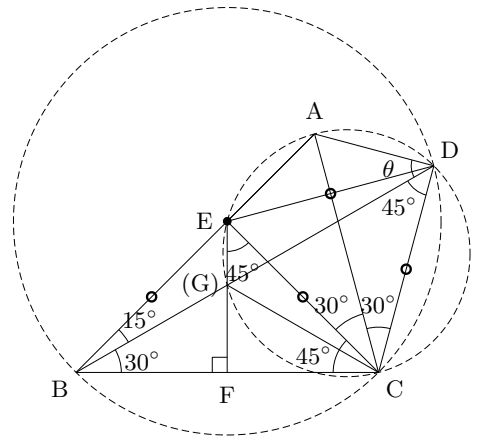
より $\triangle ECD$ は正三角形である。

$\angle EAC = \angle EDC = 60^\circ$ が成り立つから

円周角の定理の逆より四角形 $AECD$ は同一円周上にある。

$\angle ADE = \angle ACE = 30^\circ$ より

$$\theta = \angle ADB = \angle ADE + \angle EDB = 30^\circ + 15^\circ = 45^\circ$$



【注】 2つの線分 BD, EF の交点を G とすると

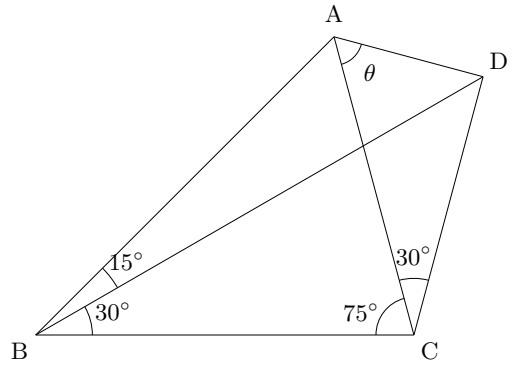
$\angle EDG = \angle EDB = \angle EBD = 15^\circ = \angle ECG$ が成り立つから
円周角の定理の逆より四角形 $EGCD$ も同一円周上にある。

つまり、五角形 $AEGCD$ は同一円周上にある。

$$\theta = \angle ADB = \angle ADG = \angle ACG = 30^\circ + 15^\circ = 40^\circ$$

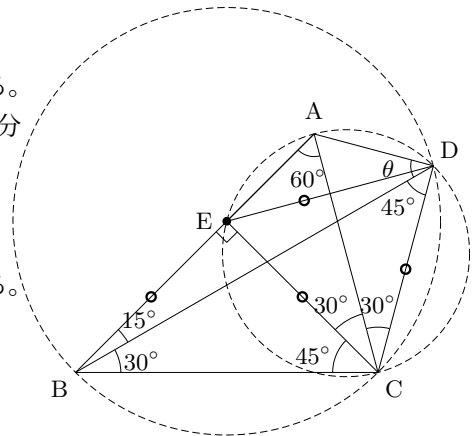
【整角四角形 $Q(15, 30, 75, 30)$ 】

図の θ の角度を求めよ。



【求め方 4】

$\triangle BCD$ の外心を E とすると、 $EB = EC = ED$ である。
 $\angle BEC = 2\angle BDC = 90^\circ$, $\angle CED = 2\angle CBD = 60^\circ$ より
 $\triangle BEC$ は直角二等辺三角形, $\triangle CED$ は正三角形である。
 $\angle CBE = 45^\circ$, $\angle CBA = 15^\circ + 30^\circ = 45^\circ$ より点 E は線分 AB 上にある。
 $\angle EAC = \angle BAC = 60^\circ$, $\angle EDC = 60^\circ$
 $\angle EAC = \angle EDC$ が成り立つから
 円周角の定理の逆より四角形 $AECD$ は同一円周上にある。
 $\angle ADE = \angle ACE = 30^\circ$, $\angle EDB = \angle EBD = 15^\circ$ より
 $\theta = \angle ADB = \angle ADE + \angle EDB = 30^\circ + 15^\circ = 45^\circ$



【予備知識】 一般に、 $a + 90^\circ = c + d$ の関係が成り立つとき、 $\triangle BCD$ の外心 E は線分 AB 上にある。

